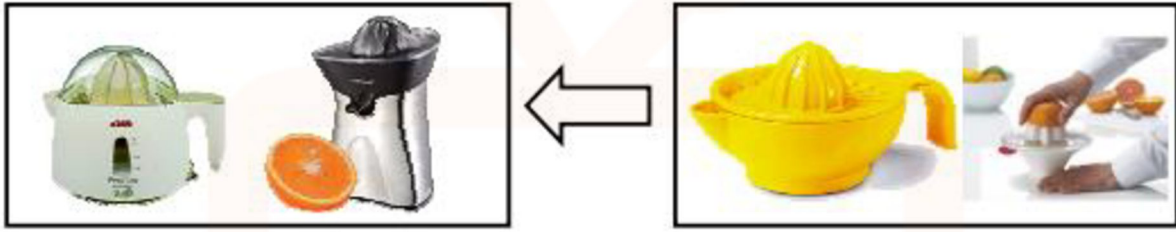


فرض كتابي عدد 1

التمرين الأول :

1) بين ثلاثة أوجه للتطور الحاصل بين عصارة يدوية و عصارة كهربائية :



التمرين الثاني :

أتمم الجدول التالي بما يناسب :

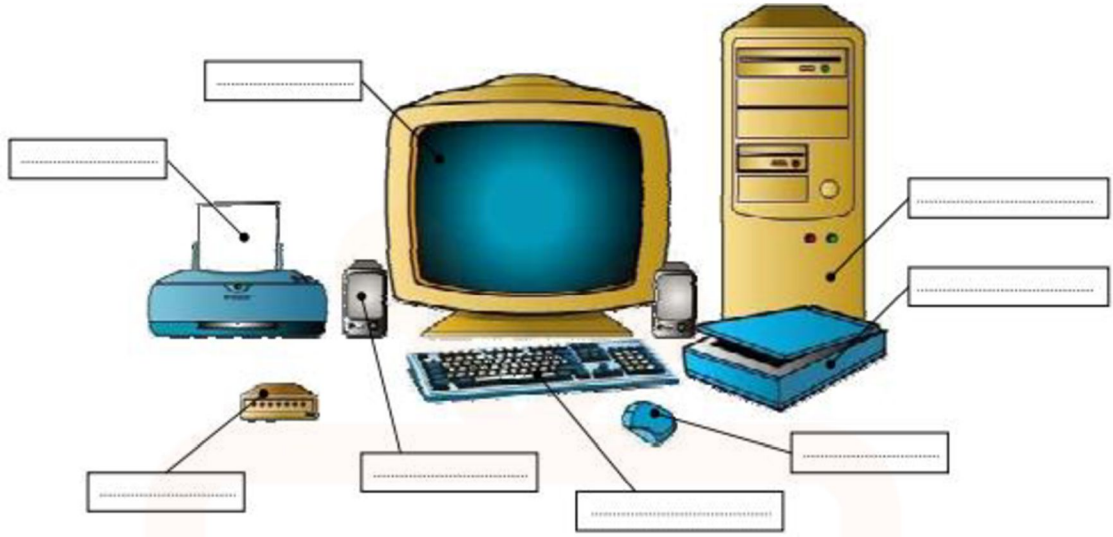
مجال التطور التكنولوجي	مجال الرفاهة المنزلية	مجال	مجال الفضاء
ثلاثة مظاهر دالة على المجال المذكور
	بيوت مكيفة
	هوائي بث و استقبال

التمرين الثالث :

أذكر أسماء مكونات الحاسوب التالية:



في دارك... إتهنح علمي قرابت إصغارك



التمرين الرابع :

ضع علامة x في المكان المناسب:

عناصر ادخال المعلومات	عناصر نشر المعلومات	
		المودام
		زر التشغيل
		الشاشة
		الفأرة
		لوحة الملامس
		الطابعة
		مضخم الصوت
		قارئ الأقراص الليزرية

التمرين الخامس :

1) بكم من مرحلة تمركل المنتجات في دورتها الحياتية ؟

.....

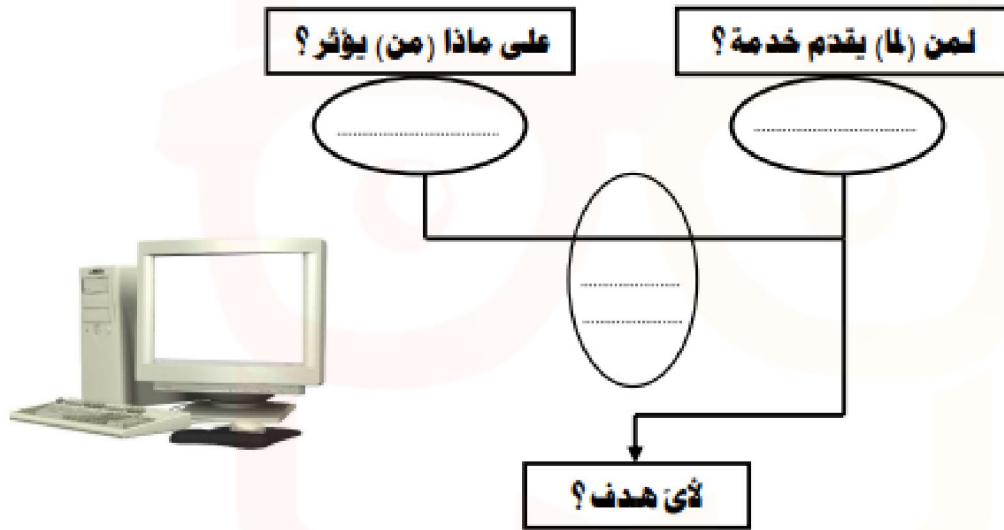


في دارك... إتهنح علمي قرابتة إصغارك

(2) أكمل الجدول التالي الخاص بمراحل دورة حياة المنتج :

التصنيع	A....
.....	A4
.....	A7
.....	A10
المصادقة عليه	A.....

التمرين السادس : أعبّر عن الحاجة للحاسوب :



TADRIS.TN



في دارك... إتهنوخ علمو قرابتة إصغارك

